

«УТВЕРЖДАЮ»
Руководитель
ФГБНУ «Федеральный институт
педагогических измерений»



О.А. Решетникова
«31» сентября 2014 г.

«СОГЛАСОВАНО»
Председатель
Научно-методического совета
ФГБНУ «ФИПИ» по географии

Н.И. Яковлева
«31» сентября 2014 г.

Единый государственный экзамен по ГЕОГРАФИИ

Демонстрационный вариант
контрольных измерительных материалов единого
государственного экзамена 2015 года
по географии

подготовлен Федеральным государственным бюджетным
научным учреждением

«ФЕДЕРАЛЬНЫЙ ИНСТИТУТ ПЕДАГОГИЧЕСКИХ ИЗМЕРЕНИЙ»

Единый государственный экзамен по ГЕОГРАФИИ

Пояснения к демонстрационному варианту контрольных измерительных материалов единого государственного экзамена 2015 года по ГЕОГРАФИИ

При ознакомлении с демонстрационным вариантом контрольных измерительных материалов ЕГЭ 2015 г. следует иметь в виду, что задания, в него включённые, не отражают всех элементов содержания, которые будут проверяться с помощью вариантов КИМ в 2015 г. Полный перечень элементов содержания, которые могут контролироваться на едином государственном экзамене 2015 г., приведён в кодификаторе элементов содержания и требований к уровню подготовки выпускников образовательных организаций для проведения единого государственного экзамена 2015 г. по географии.

Назначение демонстрационного варианта заключается в том, чтобы дать возможность любому участнику ЕГЭ и широкой общественности составить представление о структуре будущих КИМ, количестве заданий, об их форме и уровне сложности. Приведённые критерии оценки выполнения заданий с развёрнутым ответом, включённые в этот вариант, дают представление о требованиях к полноте и правильности записи развёрнутого ответа.

Эти сведения позволят выпускникам выработать стратегию подготовки к ЕГЭ.

**Демонстрационный вариант
контрольных измерительных материалов
для проведения в 2015 году единого государственного экзамена
по ГЕОГРАФИИ**

Инструкция по выполнению работы

Экзаменационная работа состоит из двух частей, включающих в себя 41 задание. Часть 1 содержит 35 заданий с кратким ответом. Часть 2 содержит 6 заданий с развёрнутым ответом.

На выполнение экзаменационной работы по географии отводится 3 часа (180 минут).

Ответы к заданиям 1, 3–6, 8–23 записываются по приведённому ниже образцу в виде одной цифры, которая соответствует номеру правильного ответа. Эту цифру запишите в поле ответа в тексте работы, а затем перенесите в бланк ответов № 1.

КИМ Ответ: 4

1	4																		
---	---	--	--	--	--	--	--	--	--	--	--	--	--	--	--	--	--	--	--

 Бланк

Ответы к заданиям 2, 7, 24–35 записываются по приведённым ниже образцам в виде числа, слова (словосочетания) или последовательности цифр. Ответ запишите в поле ответа в тексте работы, а затем перенесите в бланк ответов № 1.

КИМ Ответ:

3	1	2
---	---	---

2	3	1	2																
---	---	---	---	--	--	--	--	--	--	--	--	--	--	--	--	--	--	--	--

 Бланк

Ответ:

А	Б	В
2	4	1

7	2	4	1																
---	---	---	---	--	--	--	--	--	--	--	--	--	--	--	--	--	--	--	--

Ответ: -6,1 тыс. человек

28	-	6	,	1															
----	---	---	---	---	--	--	--	--	--	--	--	--	--	--	--	--	--	--	--

Ответ: КУРСКАЯ область

33	К	У	Р	С	К	А	Я												
----	---	---	---	---	---	---	---	--	--	--	--	--	--	--	--	--	--	--	--

Задания 36–41 требуют развёрнутого ответа. Ответом на задание 36 должен быть сделанный Вами рисунок. В заданиях 37–41 требуется записать полный ответ на поставленный вопрос или решение задачи. В бланке ответов № 2 укажите номер задания и запишите ответ на него.

Все бланки ЕГЭ заполняются яркими чёрными чернилами. Допускается использование гелевой, капиллярной или перьевой ручек.

При выполнении заданий можно пользоваться черновиком. Записи в черновике не учитываются при оценивании работы.

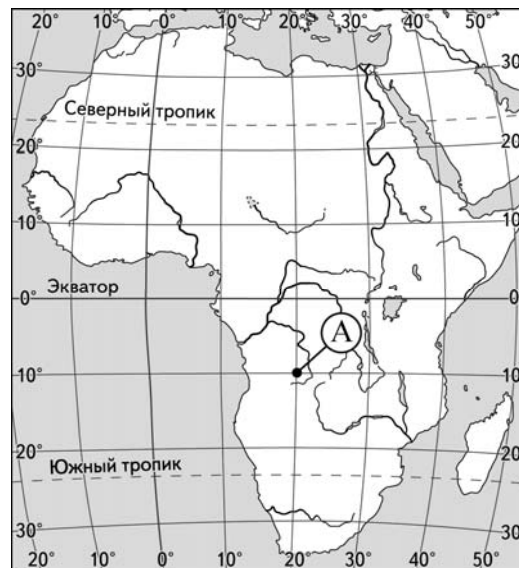
Баллы, полученные Вами за выполненные задания, суммируются. Постарайтесь выполнить как можно больше заданий и набрать наибольшее количество баллов.

Желаем успеха!

Часть 1

Ответами к заданиям 1–35 являются цифра, число, последовательность цифр или слово (словосочетание). Запишите ответ в поле ответа в тексте работы, а затем перенесите в БЛАНК ОТВЕТОВ № 1 справа от номера соответствующего задания, начиная с первой клеточки. Последовательность цифр записывайте без пробелов, запятых и других дополнительных символов. Каждый символ пишите в отдельной клеточке в соответствии с приведёнными в бланке образцами.

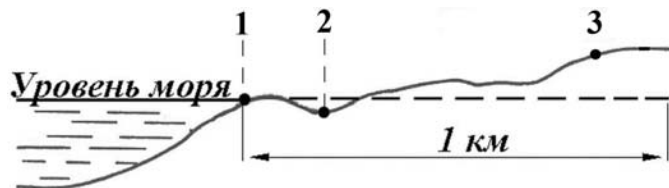
1 Какие географические координаты имеет точка, обозначенная на карте Африки буквой А?



- 1) 20° ю.ш. 10° з.д.
- 2) 10° ю.ш. 20° з.д.
- 3) 20° ю.ш. 10° в.д.
- 4) 10° ю.ш. 20° в.д.

Ответ:

- 2 В пунктах, обозначенных на рисунке цифрами, одновременно проводятся измерения атмосферного давления. Расположите эти пункты в порядке повышения в них атмосферного давления (от наиболее низкого к наиболее высокому).



Запишите в таблицу получившуюся последовательность цифр.

Ответ:

- 3 Что из перечисленного является примером **нерационального** природопользования в металлургической промышленности?

- 1) использование вторичного сырья
- 2) производство удобрений и кислот из отходов металлургии
- 3) использование систем оборотного водоснабжения
- 4) неполное извлечение металла из руды

Ответ:

- 4 Для какой природной зоны характерны чернозёмные почвы?

- 1) смешанные леса
- 2) степи
- 3) тайга
- 4) широколиственные леса

Ответ:

- 5 В каком из перечисленных городов России среднегодовое количество атмосферных осадков **наименьшее**?

- 1) Астрахань
- 2) Владивосток
- 3) Москва
- 4) Калининград

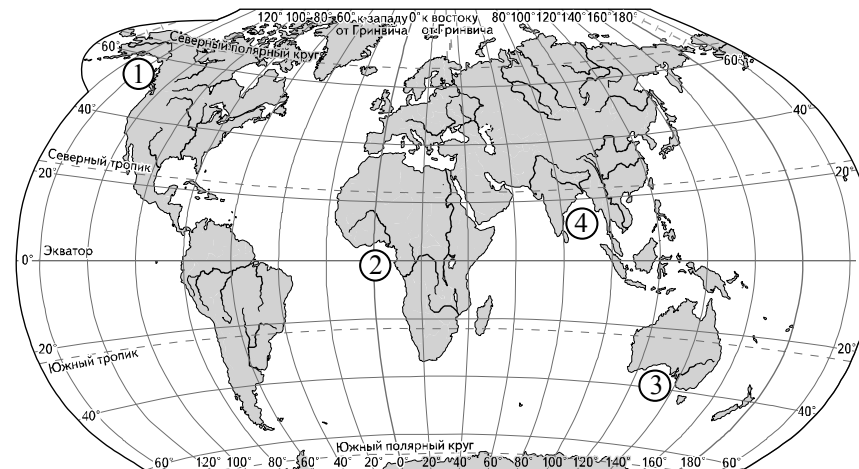
Ответ:

- 6 На какой из перечисленных параллелей 22 декабря наблюдается полярная ночь?

- 1) 50° с.ш.
- 2) 80° с.ш.
- 3) 50° ю.ш.
- 4) 80° ю.ш.

Ответ:

- 7 Установите соответствие между заливом и его обозначением на карте мира: к каждому элементу первого столбца подберите соответствующий элемент из второго столбца.



ЗАЛИВ

- А) Гвинейский
- Б) Бенгальский
- В) Аляска

ОБОЗНАЧЕНИЕ НА КАРТЕ

- 1) 1
- 2) 2
- 3) 3
- 4) 4

Запишите в таблицу выбранные цифры под соответствующими буквами.

Ответ:

А	Б	В
<input type="text"/>	<input type="text"/>	<input type="text"/>

8 В какой из перечисленных стран в возрастной структуре населения доля лиц старше 65 лет наибольшая?

- 1) Бразилия
- 2) Алжир
- 3) Бангладеш
- 4) Норвегия

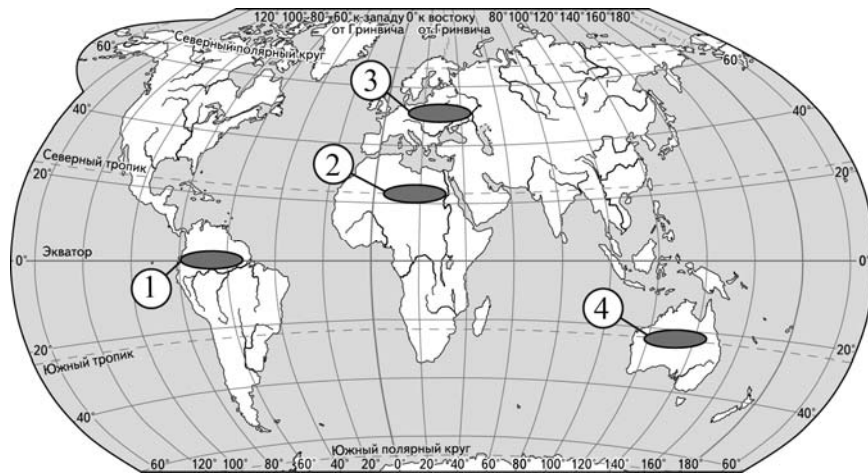
Ответ:

9 В какой из перечисленных стран доля городского населения в общей численности населения наибольшая?

- 1) Бельгия
- 2) Турция
- 3) Индонезия
- 4) Египет

Ответ:

10 Какой из регионов, обозначенных цифрами на карте мира, является наиболее густонаселённым?



- 1) 1
- 2) 2
- 3) 3
- 4) 4

Ответ:

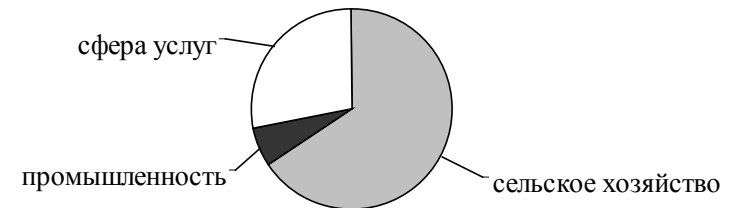
11 В какой из перечисленных стран ВВП на душу населения наибольший?

- 1) Япония
- 2) Китай
- 3) Болгария
- 4) Аргентина

Ответ:

12 Для какой из перечисленных стран характерно показанное на диаграмме распределение экономически активного населения по секторам экономики?

Распределение экономически активного населения по секторам экономики



- 1) Канада
- 2) Австралия
- 3) Уганда
- 4) Франция

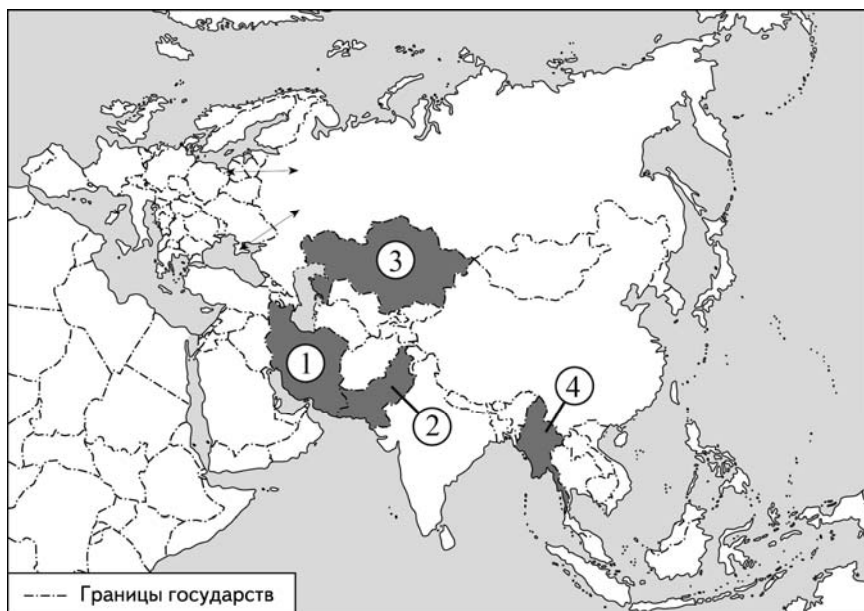
Ответ:

13 Какая из перечисленных стран входит в число крупнейших производителей хлопка-волокна?

- 1) Португалия
- 2) Чехия
- 3) Чили
- 4) Индия

Ответ:

- 14 Какой цифрой на карте Евразии обозначена территория государства Пакистан?



- 1) 1 2) 2 3) 3 4) 4

Ответ:

- 15 Верны ли следующие утверждения о Бразилии?

А) Бразилия является крупнейшим в мире производителем сахарного тростника.
Б) Большая часть электроэнергии в Бразилии производится на атомных электростанциях.

- 1) верно только А
2) верно только Б
3) верны оба утверждения
4) оба утверждения неверны

Ответ:

- 16 С какой из перечисленных стран Россия имеет сухопутную границу?

- 1) Норвегия
2) Дания
3) Швеция
4) Молдавия

Ответ:

- 17 В каком из перечисленных регионов России средняя плотность населения наибольшая?

- 1) Магаданская область
2) Республика Коми
3) Воронежская область
4) Республика Карелия

Ответ:

- 18 Какой из перечисленных городов России является наибольшим по численности населения?

- 1) Новосибирск
2) Томск
3) Петрозаводск
4) Ставрополь

Ответ:

- 19 Какие товары преобладают в структуре экспорта России?

- 1) сельскохозяйственное сырьё и продовольствие
2) минеральное сырьё и топливо
3) древесина и целлюлоза
4) машины и оборудование

Ответ:

- 20** Верны ли следующие утверждения о Западной Сибири?
А) В Западной Сибири находится крупнейший в России по объемам добычи каменноугольный бассейн.
Б) Значительная часть территории Западной Сибири занята болотами и заболоченными землями.

- 1) верно только А
- 2) верно только Б
- 3) верны оба утверждения
- 4) оба утверждения неверны

Ответ:

- 21** В каком из следующих высказываний содержится информация о миграциях населения?

- 1) Для некоторых стран Европы характерна естественная убыль населения.
- 2) В 2014 г. численность населения Италии увеличилась за счёт притока переселенцев из других стран.
- 3) Свыше 50% населения Земли проживает в Азии. Это самый населённый регион мира.
- 4) Средняя плотность сельского населения России составляет примерно 2,2 человека на 1 кв. км.

Ответ:

- 22** Большинство верующих каких из перечисленных народов исповедуют ислам?

- 1) тувинцы и калмыки
- 2) удмурты и карелы
- 3) башкиры и кабардинцы
- 4) коми и хакасы

Ответ:

- 23** Верны ли следующие выводы о тенденциях изменения объёмов промышленного и сельскохозяйственного производства России, сделанные на основе анализа данных приведённой ниже таблицы?

Динамика объёмов промышленного и сельскохозяйственного производства России
(в процентах к предыдущему году)

Год	2006	2007	2008	2009
Промышленное производство	106,3	106,8	100,6	90,7
Сельскохозяйственное производство	103,0	103,3	110,8	101,4

Вывод А: в 2008 г. объём промышленного производства незначительно вырос по сравнению с предыдущим годом.

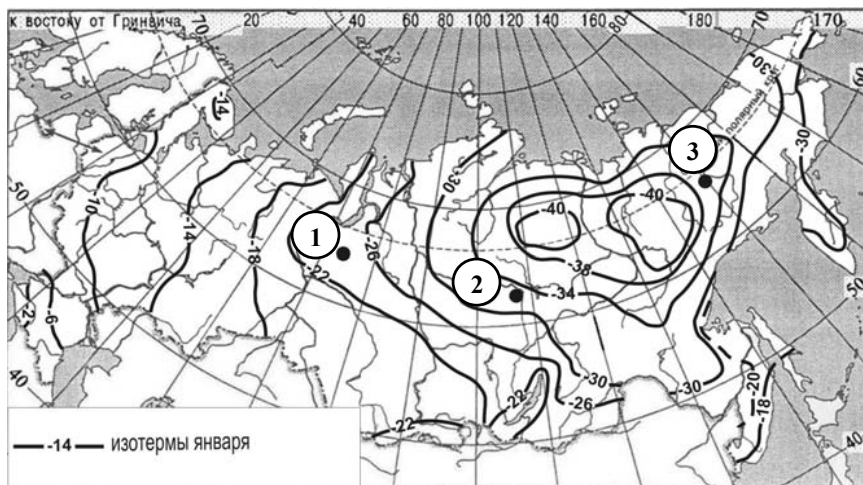
Вывод Б: объёмы сельскохозяйственного производства в России в период с 2006 по 2009 г. ежегодно возрастали.

- 1) верен только вывод А
- 2) верен только вывод Б
- 3) верны оба вывода
- 4) оба вывода неверны

Ответ:

- 24 С помощью карты сравните средние температуры воздуха января в точках, обозначенных на карте цифрами 1, 2, 3. Расположите эти точки в порядке повышения температуры.

Средняя месячная температура воздуха в январе 2001 г. (в °С)



Запишите в таблицу получившуюся последовательность цифр.

Ответ:

--	--	--

- 25 Установите соответствие между субъектом РФ и его административным центром: к каждому элементу первого столбца подберите соответствующий элемент из второго столбца.

СУБЪЕКТ РФ

АДМИНИСТРАТИВНЫЙ
ЦЕНТР

- А) Ненецкий автономный округ
Б) Республика Бурятия
В) Удмуртская Республика

- 1) Йошкар-Ола
2) Улан-Удэ
3) Нарьян-Мар
4) Ижевск

Запишите в таблицу выбранные цифры под соответствующими буквами.

Ответ:

А	Б	В

- 26 В каких трёх из перечисленных стран основная часть электроэнергии производится на ТЭС? Запишите в таблицу цифры, под которыми указаны эти страны.

- 1) Кувейт
2) Россия
3) Бразилия
4) Норвегия
5) Франция
6) Саудовская Аравия

Ответ:

--	--	--

- 27** В соответствии с Законом о возврате к «зимнему» времени с 26 октября 2014 г. на территории страны установлено 11 часовых зон. Исходным при исчислении местного времени часовых зон служит московское время – время II часовой зоны (см. таблицу).

Номер часовой зоны	I	II	III	IV	V	VI	VII	VIII	IX	X	XI
Разница между временем данной зоны и московским временем (в часах)	-1	0	+1	+2	+3	+4	+5	+6	+7	+8	+9

Самолёт вылетел из Санкт-Петербурга (II часовая зона) в Оренбург (IV часовая зона) в 9 часов по московскому времени. Расчётное время полёта составляет 3 часа. Сколько времени будет в Оренбурге, когда самолёт приземлится? Ответ запишите в виде числа.

Ответ: _____ ч.

- 28** Используя данные диаграммы, определите величину миграционного прироста населения Республики Северная Осетия – Алания в 2011 г. Ответ запишите в виде числа (по образцу, указанному в инструкции по выполнению работы).

Распределение числа мигрантов по основным потокам передвижения, 2011 г. (тыс. человек)



Ответ: _____ тыс. человек.

29 Расположите перечисленные страны в порядке возрастания в них показателя естественного прироста населения (на 1 тыс. жителей), начиная со страны с наименьшим значением этого показателя.

- 1) Аргентина
- 2) Болгария
- 3) Австралия
- 4) Эфиопия

Запишите в таблицу получившуюся последовательность цифр.

Ответ:

--	--	--	--	--

30 Используя данные таблицы, сравните обеспеченность стран нефтью. Расположите страны в порядке возрастания в них показателя ресурсообеспеченности, начиная со страны с наименьшим значением этого показателя.

Страна	Разведанные запасы нефти, млрд т	Добыча нефти, млн т в год
1) Норвегия	1,1	128
2) Нигерия	4,9	120
3) Россия	11,0	480

Запишите в таблицу получившуюся последовательность цифр.

Ответ:

--	--	--

31 Расположите перечисленные периоды геологической истории Земли в хронологическом порядке, начиная с самого раннего.

- 1) меловой
- 2) четвертичный
- 3) силурийский

Запишите в таблицу получившуюся последовательность цифр.

Ответ:

--	--	--

32 Определите страну по её краткому описанию.

Эта страна полностью расположена в Западном полушарии и имеет выход к трём океанам. На материке, где расположена страна, она является первой по площади территории и третьей по численности населения. В стране хорошо развиты отрасли как добывающей, так и обрабатывающей промышленности. В международном географическом разделении труда она является поставщиком продукции горнодобывающей промышленности, машиностроения, металлургии, топливной, химической и лесной промышленности, а также сельского хозяйства.

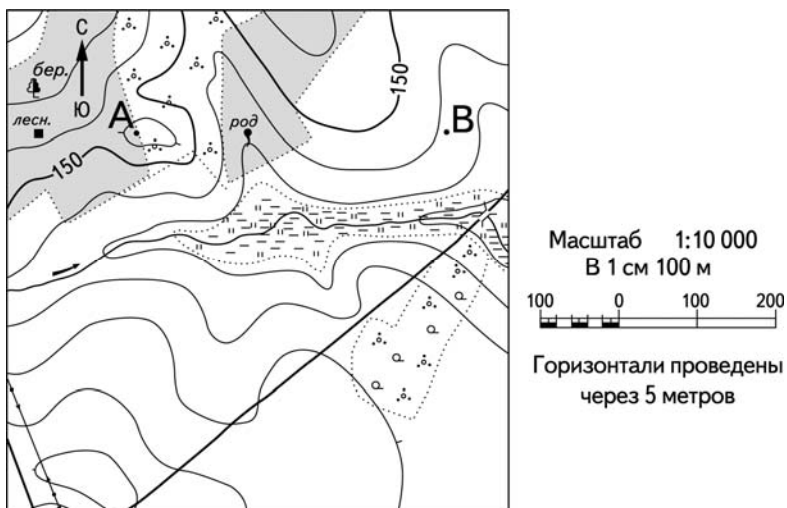
Ответ: _____.

33 Определите регион России по его краткому описанию.

Эта область расположена в Европейской части России. Одна из основных отраслей промышленности – добыча железных руд и производство железорудных окатышей. Машиностроение специализируется на производстве кузнечно-прессового оборудования, электротехнических изделий, оборудования для животноводства и кормопроизводства. Электроэнергией область обеспечивает расположенная на её территории крупная АЭС. В пищевой промышленности используется местное сельскохозяйственное сырьё: на чернозёмных почвах выращивают зерновые культуры, картофель, сахарную свёклу, подсолнечник.

Ответ: _____ область.

Задания 34, 35, 36 выполняются с использованием приведённого ниже фрагмента топографической карты.



34 Определите по карте расстояние на местности по прямой от родника до дома лесника. Полученный результат округлите до десятков метров. Ответ запишите цифрами.

Ответ: _____ м.

35 Определите по карте азимут от родника на дом лесника. Ответ запишите цифрами.

Ответ: _____ градусов.

Не забудьте перенести все ответы в бланк ответов № 1 в соответствии с инструкцией по выполнению работы.

Часть 2

Для записи ответов на задания этой части (36–41) используйте БЛАНК ОТВЕТОВ № 2. Запишите сначала номер задания (36, 37 и т. д.), а затем развёрнутый ответ на него. Ответы записывайте чётко и разборчиво.

36 Постройте профиль рельефа местности по линии А – В. Для этого перенесите основу для построения профиля на бланк ответов № 2, используя горизонтальный масштаб в 1 см 50 м и вертикальный масштаб в 1 см 5 м. Укажите на профиле знаком «Х» положение родника.

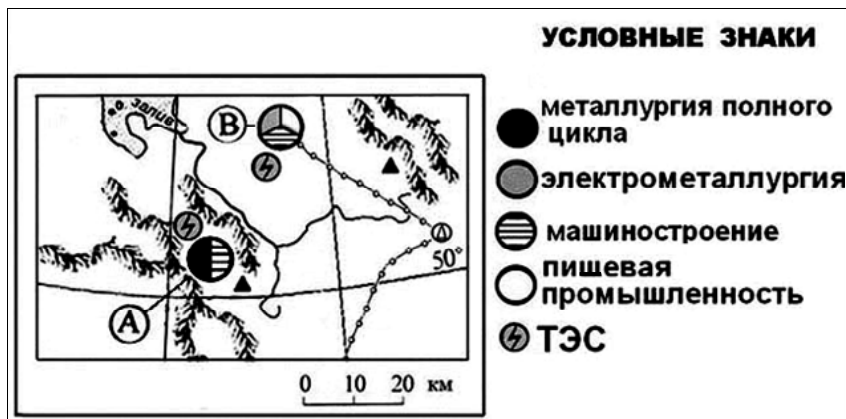


- 37** Используя данные таблицы, объясните, почему в период с 1985 по 2010 г. доля лиц старше 65 лет в возрастной структуре населения Мексики значительно увеличилась. Укажите две причины. Если Вы укажете более двух причин, оцениваться будут только две, указанные первыми.

Демографические показатели Мексики

Показатель	1985 г.	2010 г.
Численность населения, млн человек	76,7	110,6
Доля лиц старше 65 лет, %	3	6
Рождаемость, ‰	31	19
Смертность, ‰	6	6
Сальдо миграций, ‰	-3	-4
Средняя продолжительность жизни, лет	69	76
Доля городского населения, %	75	77

- 38** Определите, в каком из промышленных центров, обозначенных на карте буквами А и В, будет наблюдаться большее загрязнение атмосферы. Для обоснования Вашего ответа приведите два довода. Если Вы приведёте более двух доводов, оцениваться будут только два, указанных первыми.

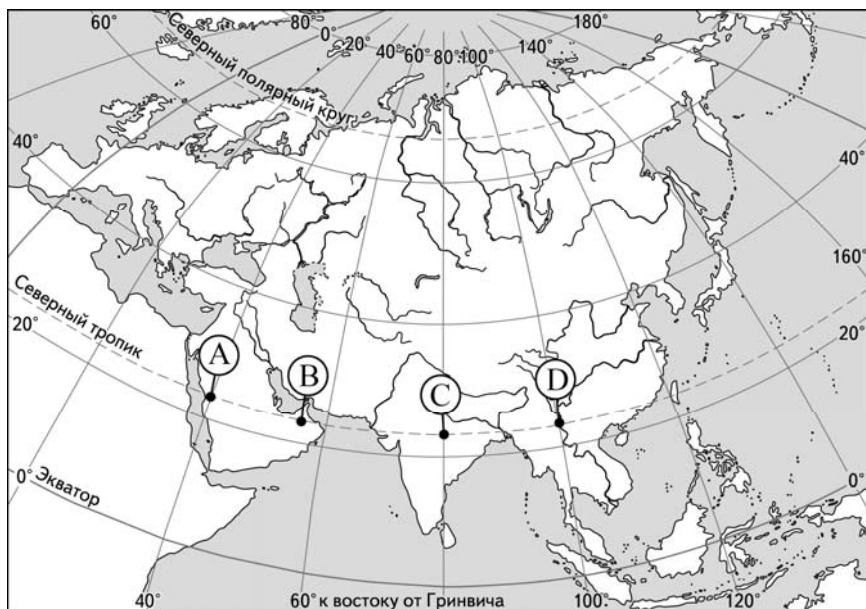


- 39** Используя данные таблицы, приведённой ниже, сравните доли сельскохозяйственного населения (людей, занятых в сельском хозяйстве, и членов их семей, находящихся на их иждивении) в общей численности населения и доли сельского хозяйства в ВВП Замбии и Ирана. Сделайте вывод о том, в какой из этих стран сельское хозяйство играет большую роль в экономике. Для обоснования Вашего ответа запишите необходимые числовые данные или вычисления.

**Социально-экономические показатели развития
Замбии и Ирана в 2010 г.**

Страна	Численность населения, млн человек	Численность сельскохозяйственного населения, млн человек	Отраслевая структура ВВП, %		
			Сельское хоз-во	Промышленность	Сфера услуг
Замбия	13,1	8,3	20	34	46
Иран	74,0	15,9	11	46	43

- 40** Определите, в каком из пунктов, обозначенных буквами на карте Евразии, Солнце будет находиться **выше всего** над горизонтом 1 декабря в 8 часов по солнечному времени Гринвичского меридиана. Запишите обоснование Вашего ответа.



- 41** На численность населения субъектов Российской Федерации заметное влияние оказывают как естественное движение населения, так и миграции. В таблице приведены данные, взятые с официального сайта Федеральной службы государственной статистики.

**Численность и естественный прирост населения
Пермского края**

Показатель	2010 г.	2011 г.	2012 г.
Численность постоянного населения на 1 января, человек	2 641 016	2 633 550	2 631 073
Среднегодовая численность населения, человек	2 637 570	2 632 312	Нет данных
Естественный прирост населения, человек, значение показателя за год	-3067	-1670	Нет данных

Проанализировав эти данные, определите:

- 1) показатель естественного прироста населения (в ‰) в 2011 г. для Пермского края. При расчётах используйте показатель среднегодовой численности населения. Полученный результат округлите до десятых долей промилле;
- 2) величину миграционного прироста (убыли) населения Пермского края в 2011 г. Запишите решение задачи.

Система оценивания экзаменационной работы по географии

Часть 1

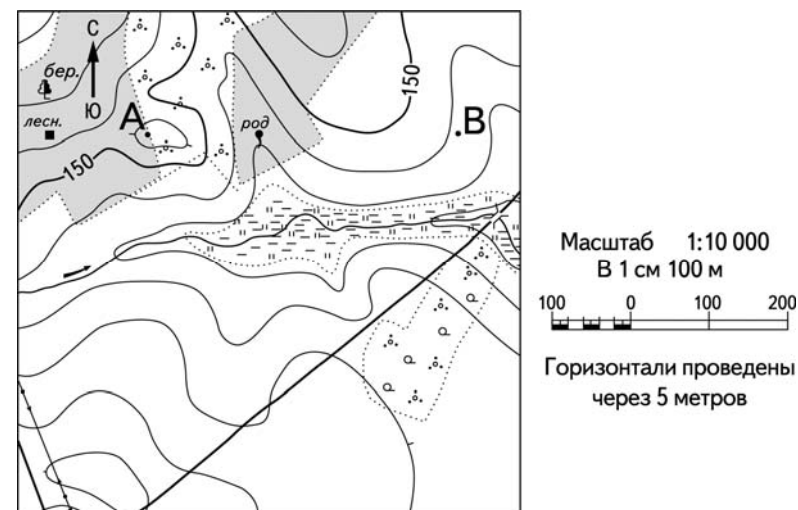
За каждый правильный ответ на задания 1–6, 8–24, 27–35 ставится 1 балл; за неверный ответ или его отсутствие – 0 баллов.

За каждый полный правильный ответ в заданиях 7, 25 и 26 ставится 2 балла; если допущена 1 ошибка – 1 балл; если допущены 2 и более ошибок – 0 баллов.

№ задания	Ответ
1	4
2	312
3	4
4	2
5	1
6	2
7	241
8	4
9	1
10	3
11	1
12	3
13	4
14	2
15	1
16	1
17	3
18	1
19	2
20	3
21	2
22	3
23	3
24	321
25	324
26	126
27	14
28	-6,1
29	2314
30	132
31	312
32	Канада
33	Курская; Курская область
34	250; 260; 270; 280; 290
35	268; 269; 270; 271; 272

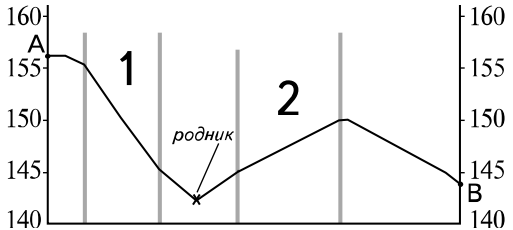
Часть 2

Критерии оценивания заданий с развёрнутым ответом



- 36** Постройте профиль рельефа местности по линии А – В. Для этого перенесите основу для построения профиля на бланк ответов № 2, используя горизонтальный масштаб в 1 см 50 м и вертикальный масштаб в 1 см 5 м. Укажите на профиле знаком «Х» положение родника.



Содержание верного ответа и указания по оцениванию	Баллы
 <p>1) На рисунке в ответе длина горизонтальной линии основы профиля равна 80 ± 2 мм и расстояние от левой вертикальной оси до родника – 29 ± 2 мм;</p> <p>2) форма профиля в основном совпадает с эталоном;</p> <p>3) на участке 1 склон круче, чем на участке 2</p>	
Ответ включает в себя все три названных выше элемента	2
Ответ включает в себя один (1-й) ИЛИ два (любых) из названных выше элементов	1
Все ответы, которые не соответствуют вышеуказанным критериям выставления оценок в 1 и 2 балла	0
<i>Максимальный балл</i>	2

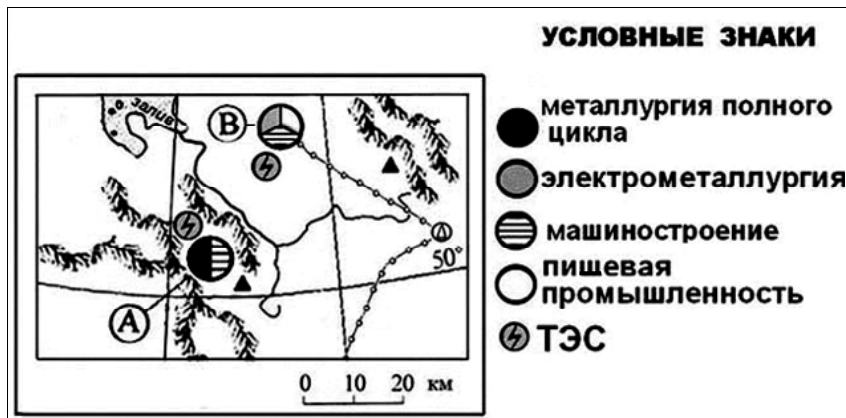
- 37 Используя данные таблицы, объясните, почему в период с 1985 по 2010 г. доля лиц старше 65 лет в возрастной структуре населения Мексики значительно увеличилась. Укажите две причины. Если Вы укажете более двух причин, оцениваться будут только две, указанные первыми.

Демографические показатели Мексики

Показатель	1985 г.	2010 г.
Численность населения, млн человек	76,7	110,6
Доля лиц старше 65 лет, %	3	6
Рождаемость, ‰	31	19
Смертность, ‰	6	6
Сальдо миграций, ‰	-3	-4
Средняя продолжительность жизни, лет	69	76
Доля городского населения, %	75	77

Содержание верного ответа и указания по оцениванию (допускаются иные формулировки ответа, не искажающие его смысла)	Баллы
В ответе указаны следующие причины: 1) уменьшение рождаемости ИЛИ уменьшение доли детей; 2) Увеличение средней продолжительности жизни	
Ответ включает в себя оба названных выше элемента	2
Ответ включает в себя один (любой) из названных выше элементов	1
Все ответы, которые не соответствуют вышеуказанным критериям выставления оценок в 1 и 2 балла	0
<i>Максимальный балл</i>	2

- 38** Определите, в каком из промышленных центров, обозначенных на карте буквами А и В, будет наблюдаться большее загрязнение атмосферы. Для обоснования Вашего ответа приведите два довода. Если Вы приведёте более двух доводов, оцениваться будут только два, указанных первыми.



Содержание верного ответа и указания по оцениванию (допускаются иные формулировки ответа, не искажающие его смысла)	Баллы
В ответе говорится, что 1) большее загрязнение атмосферы будет наблюдаться в пункте А. В обосновании говорится, что: 2) металлургия полного цикла больше загрязняет окружающую среду, чем электрометаллургия; 3) пункт А расположен в межгорной котловине	
Ответ включает в себя все три названных выше элемента	2
Ответ включает в себя два (любых) из названных выше элементов	1
Все ответы, которые не соответствуют вышеуказанным критериям выставления оценок в 1 и 2 балла	0
<i>Максимальный балл</i>	2

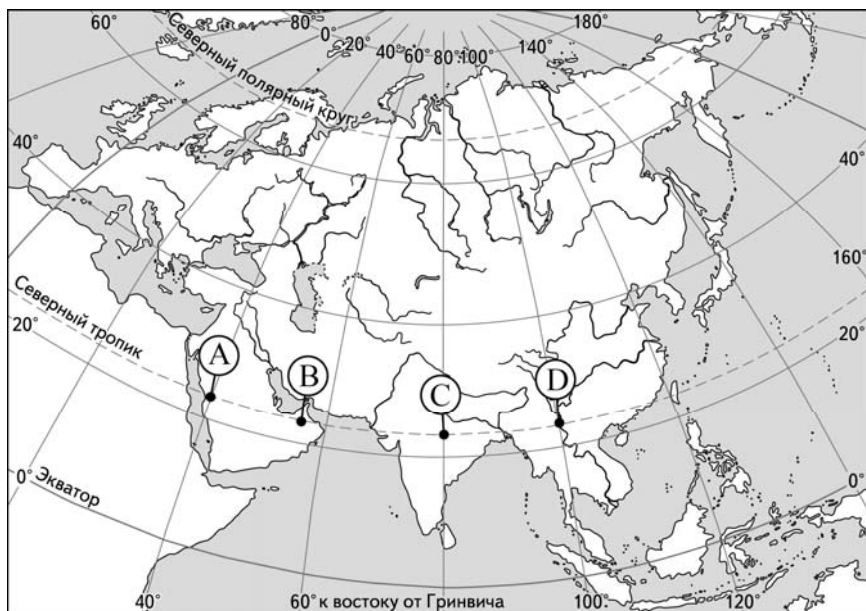
- 39** Используя данные таблицы, приведённой ниже, сравните доли сельскохозяйственного населения (людей, занятых в сельском хозяйстве, и членов их семей, находящихся на их иждивении) в общей численности населения и доли сельского хозяйства в ВВП Замбии и Ирана. Сделайте вывод о том, в какой из этих стран сельское хозяйство играет большую роль в экономике. Для обоснования Вашего ответа запишите необходимые числовые данные или вычисления.

**Социально-экономические показатели развития
Замбии и Ирана в 2010 г.**

Страна	Численность населения, млн человек	Численность сельскохозяйственного населения, млн человек	Отраслевая структура ВВП, %		
			Сельское хоз-во	Промышленность	Сфера услуг
Замбия	13,1	8,3	20	34	46
Иран	74,0	15,9	11	46	43

Содержание верного ответа и указания по оцениванию (допускаются иные формулировки ответа, не искажающие его смысла)	Баллы
В ответе говорится, что: 1) доля сельскохозяйственного населения в общей численности населения в Замбии выше, чем в Иране, и приводятся вычисления: 8,3 : 13,1 и 15,9 : 74,0, ИЛИ доля сельскохозяйственного населения в общей численности населения в Замбии выше, чем в Иране, и приводятся значения: 63,4% и 21,5%;	
2) доля сельского хозяйства в ВВП Замбии выше, чем в ВВП Ирана, и приводятся значения: 20% и 11%;	
3) сельское хозяйство играет большую роль в экономике Замбии	
Ответ включает в себя все три названных выше элемента	2
Ответ включает в себя два (любых) из названных выше элементов	1
Все ответы, которые не соответствуют вышеуказанным критериям выставления оценок в 1 и 2 балла	0
<i>Максимальный балл</i>	2

- 40** Определите, в каком из пунктов, обозначенных буквами на карте Евразии, Солнце будет находиться **выше всего** над горизонтом 1 декабря в 8 часов по солнечному времени Гринвичского меридиана. Запишите обоснование Вашего ответа.



Содержание верного ответа и указания по оцениванию (допускаются иные формулировки ответа, не искажающие его смысла)	Баллы
В ответе говорится, что 1) выше всего Солнце будет находиться над горизонтом в пункте В. В обосновании: 2) говорится, что в этот момент на меридиане 60° в.д. полдень, ИЛИ для определения полуденного меридиана используется вычисление: $(12 - 8) \times 15^\circ$, ИЛИ в ответе правильно вычисляется солнечное время для каждого из указанных в условии пунктов; 3) говорится, что пункт расположен ближе всего к полуденному меридиану, ИЛИ искомый пункт определяется путём сравнения времени суток в указанных в условии пунктах	
Ответ включает в себя все три названных выше элемента	2
Ответ включает в себя два (любых) из названных выше элементов	1
Все ответы, которые не соответствуют вышеуказанным критериям выставления оценок в 1 и 2 балла	0
<i>Максимальный балл</i>	2

41 На численность населения субъектов Российской Федерации заметное влияние оказывают как естественное движение населения, так и миграции. В таблице приведены данные, взятые с официального сайта Федеральной службы государственной статистики.

Численность и естественный прирост населения Пермского края

Показатель	2010 г.	2011 г.	2012 г.
Численность постоянного населения на 1 января, человек	2 641 016	2 633 550	2 631 073
Среднегодовая численность населения, человек	2 637 570	2 632 312	Нет данных
Естественный прирост населения, человек, значение показателя за год	-3067	-1670	Нет данных

Проанализировав эти данные, определите:

- показатель естественного прироста населения (в ‰) в 2011 г. для Пермского края. При расчётах используйте показатель среднегодовой численности населения. Полученный результат округлите до десятых долей промилле;
- величину миграционного прироста (убыли) населения Пермского края в 2011 г. Запишите решение задачи.

	Содержание верного ответа и указания по оцениванию (допускаются иные формулировки ответа, не искажающие его смысла)	Баллы
K1	Определение показателя естественного прироста населения в ‰	
	Экзаменуемый верно определил показатель естественного прироста населения (в ‰) в 2011 г. для Пермского края: $-0,6‰$	1
	Экзаменуемый не смог верно определить показатель естественного прироста населения (в ‰) в 2011 г. для Пермского края	0
K2	Определение величины миграционного прироста населения	
	Решение: 1) $2\,631\,073 - 2\,633\,550 = -2477$ 2) $-2477 - (-1670) = -807$ ИЛИ В 2011 г. численность населения Пермского края уменьшилась на 2477 человек. За счёт естественной убыли произошло сокращение численности на 1670 человек. Миграционный прирост населения составил: $-2477 - (-1670) = -807$	

	Приведена верная последовательность всех шагов решения. 1) Величина, на которую изменилась численность населения Пермского края в 2011 г., определена как разность между численностью населения на 1 января 2012 г. и на 1 января 2011 г. 2) Величина миграционного прироста населения определена как разность между величиной изменения численности населения и величиной естественного прироста (убыли) населения в 2011 г. Все вычисления выполнены верно, получен верный ответ	2
	Приведена верная последовательность всех шагов решения, но получен неверный ответ, так как допущена ошибка при определении величины, на которую изменилась численность населения Пермского края в 2011 г. ИЛИ Верно выполнен только первый шаг решения, а второй шаг либо отсутствует, либо выполнен неверно. ИЛИ Получен неверный ответ, так как величина, на которую изменилась численность населения в 2011 г., определена как разность между численностью населения на 1 января 2011 г. и на 1 января 2010 г.	1
	Все случаи решения, которые не соответствуют вышеуказанным критериям выставления оценок в 1 и 2 балла	0
	<i>Максимальный балл</i>	3

В соответствии с Порядком проведения государственной итоговой аттестации по образовательным программам среднего общего образования (приказ Минобрнауки России от 26.12.2013 № 1400 зарегистрирован Минюстом России 03.02.2014 № 31205)

«61. По результатам первой и второй проверок эксперты независимо друг от друга выставляют баллы за каждый ответ на задания экзаменационной работы ЕГЭ с развернутым ответом...»

62. В случае существенного расхождения в баллах, выставленных двумя экспертами, назначается третья проверка. Существенное расхождение в баллах определено в критериях оценивания по соответствующему учебному предмету.

Эксперту, осуществляющему третью проверку, предоставляется информация о баллах, выставленных экспертами, ранее проверявшими экзаменационную работу».

Если расхождение составляет 2 и более балла за выполнение любого из заданий, то третий эксперт проверяет ответы только на те задания, которые вызвали столь существенное расхождение.